

FECHA:	PERIODO: 3	GRADO: Procesos Básicos
Área: MATEMATICAS		
NOMBRE DEL ESTUDIANTE:		

OBJETIVO: Comprobar los aprendizajes significativos de los estudiantes durante el primer periodo del año escolar.

1. Pedro y María se encuentran estudiando la lectura y la escritura de números menores de 1.000. Si María escribe 789, entonces Pedro leerá.

a. Siete, ocho y nueve.

c. setecientos ochenta y nueve.

b. Nueve, ocho y siete.

d. Novecientos ochenta y siete.

2. Marta camina sobre un puente de madera, el cual contiene divisiones cada tres metros. Si actualmente se encuentra en la quinta división, la distancia que ha recorrido sobre el puente, en metros, es:

a. 1-2-3-4-5.

c. 5

b. 3-6-9-12-15

d. 15

3. En la clase de matemáticas, Marcos dice que el número 432, tiene 4 unidades, 3 decenas y 2 centenas. Cuál será la respuesta correcta.

a. 2 unidades, 3 decenas y 4 centenas.

b. 432 unidades, 43 decenas y 4 centenas.

c. Marcos no esta equivocado.

d. 2 unidades, 3 decenas y 4 centenas.

4. Sebastián, Natalia y María reúnen un dinero. Si Sebastián aporta \$250, Natalia \$100 y María \$60. El dinero reunido es.

a. Mayor de 200 y menos 400.

b. Mayor que 60 y menor que 450.

c. Mayor que 100 y menor que 360.

d. Mayor que 400 y menor que 420.

5. Con los siguientes números (7 – 9 – 5 – 3 – 10), se le pide a Camila que los organice de mayor a menor, el orden correcto es.


a. 10, 9, 7, 5, 3.


c. 7, 9, 5, 3, 10.


b. 9, 7, 5, 3, 10.


d. 10, 3, 5, 7, 9.


6.


325 -  = 115 El número escondido es: _____


458 -  = 234 El número escondido es: _____


879 -  = 632 El número escondido es: _____


258 -  = 150 El número escondido es: _____


584 -  = 63 El número escondido es: _____

736 -  = 325 El número escondido es: _____

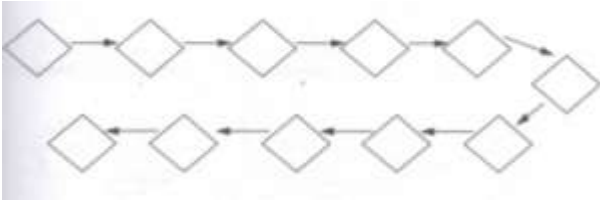
613 -  = 401 El número escondido es: _____

800 -  = 500 El número escondido es: _____

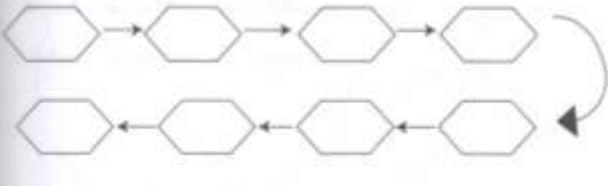
750 -  = 620 El número escondido es: _____

390 -  = 380 El número escondido es: _____


7. Completa la serie de 3 en 3



Completa la serie de 5 en 5



Completa la serie de 10 en 10



8. Realiza las siguientes operaciones con números grandes:

5.793

294

+

62

245

67

+

129

987

43

+

2.107

149

1.863

+

1

352

191

-

191

176

98

-

98

931

896

-

896

-

9. Escribe el nombre de los siguiente números:

930:-----

507:-----

800:-----

206:-----

10. Resuelve el problema.

En la semana ecológica de mi institución se recolectaron 13.229 kilos de papel para reciclar, si aún quedan por reciclar 2.742. ¿Cuántos kilos ya se reciclaron?